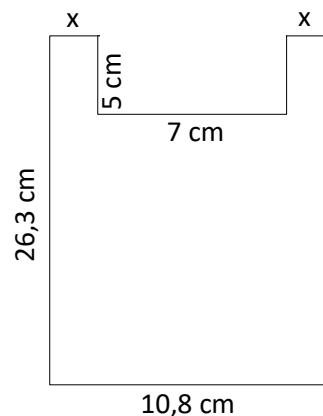





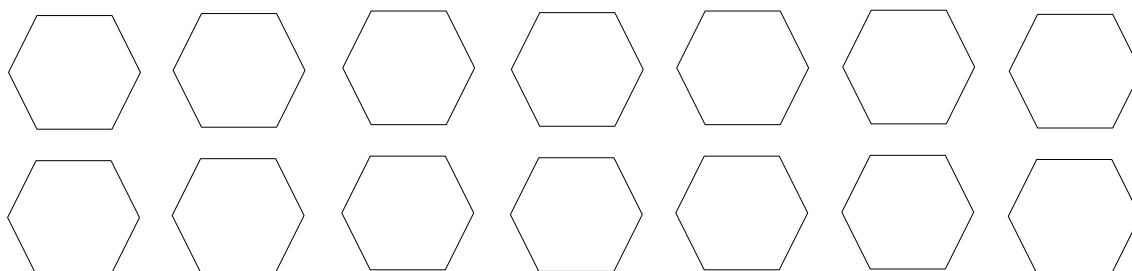


6. Számold ki az ábrán látható sokszög területét! Az eredményt add meg  $\text{dm}^2$ -ben is!




8	
---	--

7. Egy szabályos hatszög átlói a síkidom középpontjában metszik egymást.  
Hány négyszög rajzolható a hatszögbe? Rajzold be az ábrákba!



7	
---	--

8. A tavaszi krumpli vetés 3 napig tartott. Az első nap  $\frac{3}{8}$  tonna krumplit vetettek, a második napon az első nap  $\frac{2}{5}$  részét sikerült teljesíteni. Az utolsó, harmadik napra maradt  $2\frac{7}{20}$  tonna.
- Hány tonna krumplit vetettek a második napon?
  - Összesen hány tonna krumplit vettek?
  - Írd le az eredményt kg-ban is!



8	
---	--

