

BEM JÓZSEF

MEGYEI MATEMATIKAVERSENY

I. FORDULÓ 2024. március 18.

Tiszta versenyző: 60 perc. Minden feladatot indoklással együtt oldj meg! A részműveletek is pontot érnek. Számológép használata tilos!




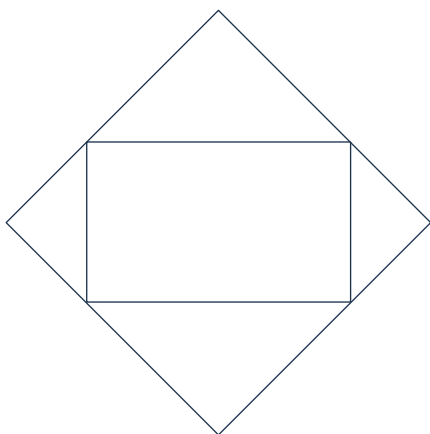
Jelszó:

Terem:

Hely:


6. OSZTÁLY

1. Hány konvex sokszöget látsz az ábrán? Indokolj! Számold meg a különböző részeket, úgy könnyebb!



10

2. Melyik az a szám, amelyhez ha hozzáadunk egyet, majd az összeget hárommal szorozzuk, és ezt a szorzatot 3-ból kivonjuk, az eredeti szám háromszorosát kapjuk eredményül?
Számolással indokolj!



5

