






6. Nagyapa háza egy téglalap alakú telken áll, amelynek hossza 125 m, szélessége 55 m. A teleknek a háromnegyed részét kerítés veszi körül, a többit sövény.

Hány m hosszú a kerítés?

Hány m hosszú a sövény?

Rajzolj! Jegyezd le gondolatmenetedet! Válaszolj!



---


6
---

7. A Mézesmackó cukrászdában vasárnap nyitástól 10 óráig 95 db süteményt adtak el. 10 órától délig a maradék sütemény 1 harmad része fogyott el. Így délutánra már csak 270 db finomság maradt.

Válaszolj az alábbi kérdésekre!

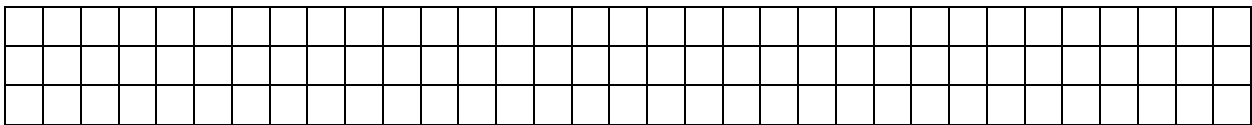
Jegyezd le gondolatmenetedet, számolj!

a) Hány db süteményt adtak el 10 órától délig?



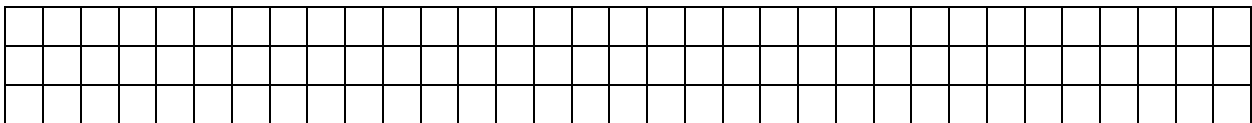
---

b) Hány db sütemény volt a cukrászdában nyitáskor?



---



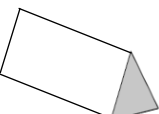
c) Hány Ft volt ezen a vasárnapon a bevétel, ha tudjuk, hogy a cukrászda 100. születésnapját ünnepelték, ezért minden sütemény 100 Ft-ba került és záráskor egy finomság sem maradt?



---

8
---

8. Figyeld meg az alábbi testeket!  
Töltsd ki a táblázatot!

testek	lapok száma	csúcsok száma	élek száma
			
			
			

9

9. Egészítsd ki a hiányos ábrákat a felismert szabály szerint!

2	6
21	

9	5
54	

8	8
46	

6	7

4	4

2

**összes pont:**

65