





6. Döntsd el, igaz vagy hamis! Karikázd be a megfelelő betűket, majd jegyezd le azokat egymás után!

Mi lesz a megfejtés?

	Igaz	Hamis
1 kg = 500 g + 50 dkg	Ü	Ö
100 cl + 350 cl = 45 dl	G	K
2 km – 500 dm = 1050 m	R	Y
90 perc = másfél óra	E	A
10 perc + 25 perc = háromnegyed óra	T	S


Megfejtés: \_\_\_\_\_

6	
---	--

7. Nagymami születésnapjára annyi szál rózsát kapott, ahány éves. Tudjuk, hogy három különböző színű rózsából kötötték a hatalmas csokrot, amelyben 16 szállal több volt a fehér rózsza, mint a vörös. Sárga színűből pedig pontosan 30 szál volt a csokorban. A vendégek azt is megfigyelték, hogy éppen kétszer annyi sárga rózsza volt, mint vörös.

A nagymami hányadik születésnapját ünnepelték?

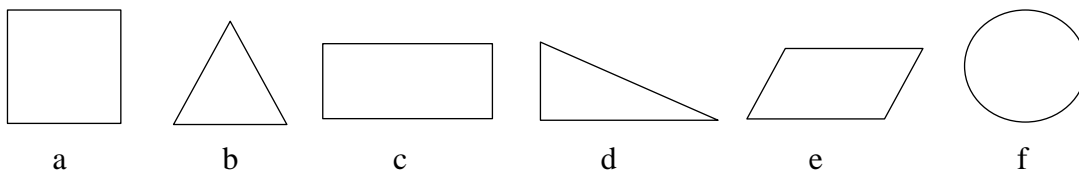
Jegyezd le gondolatmenetedet! Számolj! Válaszolj!



6	
---	--

8. Figyeld meg a síkidomokat, majd döntsd el melyekre igazak az alábbi állítások!

Írd a vonalra a megfelelő betűket!



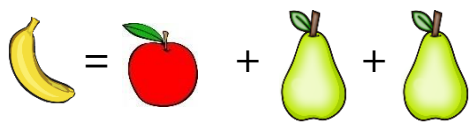


- Nincs tükköztengelye (szimmetriatengelye): \_\_\_\_\_
- Van párhuzamos oldalpárja: \_\_\_\_\_
- Csak egy derékszöge (merőleges oldalpárja) van: \_\_\_\_\_

3	
---	--

9. Nézd meg jól az egyenlőségeket!

Hány körtét ér egy alma?



2	
---	--

**összes pont:**

55	
----	--