


9. Petinek és Lacinak összesen 12000 Ft-ja van.

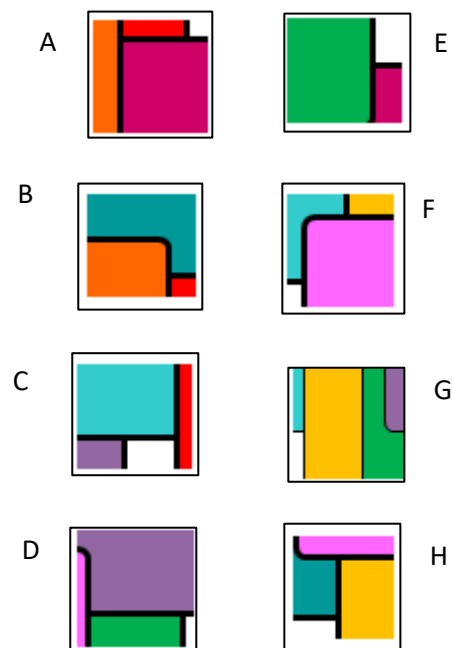
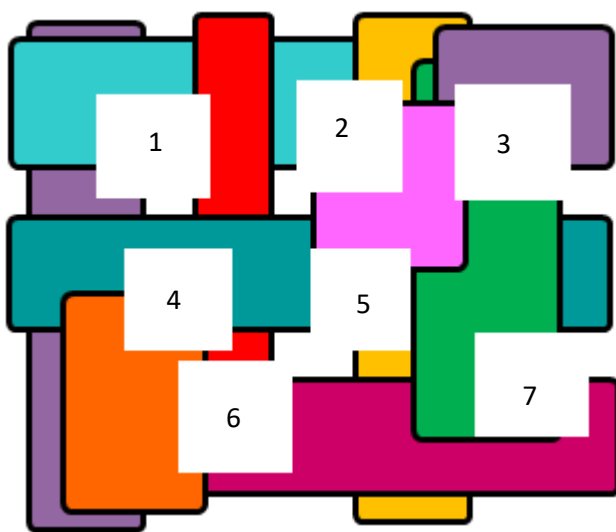
- Érdekes! – mondja Peti. A te pénzednek a fele ugyanannyi, mint az én pénzemnek a harmada.
Kinek hány Ft-ja van?

Rajzolj! Számolj, ellenőrizz! Válaszolj!



7

10. Az alábbi színes ábrából kiemeltünk hét részletet. Keresd meg a mozaikok helyét, és írd a betűt a megfelelő szám mellé! Egy részlet nem tartozik az ábrához. Karikázd be a betűjelét!



8

összes pont:

76