
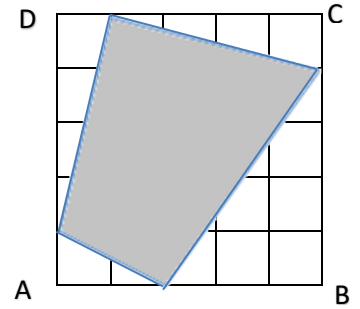






4. Az ABCD négyzet területének hányad része a besatírozott négyszög területe?

- Hány %-a a négyszög területe az egész négyzet területének?
  - Mekkora a négyszög területe, ha az ABCD négyzet oldala 15 cm?
- Számolj és indoklással válaszolj!



9

5. Joe a tengeren viharba került, bárkája egy lakatlan szigetre sodródott. Ennivalót akart magának keresni, de egy föld alatti labirintusba tévedt. Segíts neki kijutni! (A kijáratot a kék nyíl jelöli.)

Egyes termekben kulcsot találhat, mely a vele azonos színű ajtót nyitja. Így juthat át az egyik teremből a másikba. Az ajtókat színes vonalak jelölik (lila, piros és zöld).

Ha egy teremben nem talál kulcsot, vagy a kulcs nem nyitja az ajtót (mert más színűek), akkor használhatja az alagutakat is. (▲, ●, \*, +, ■)

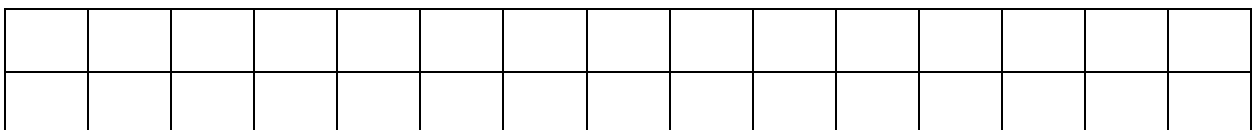
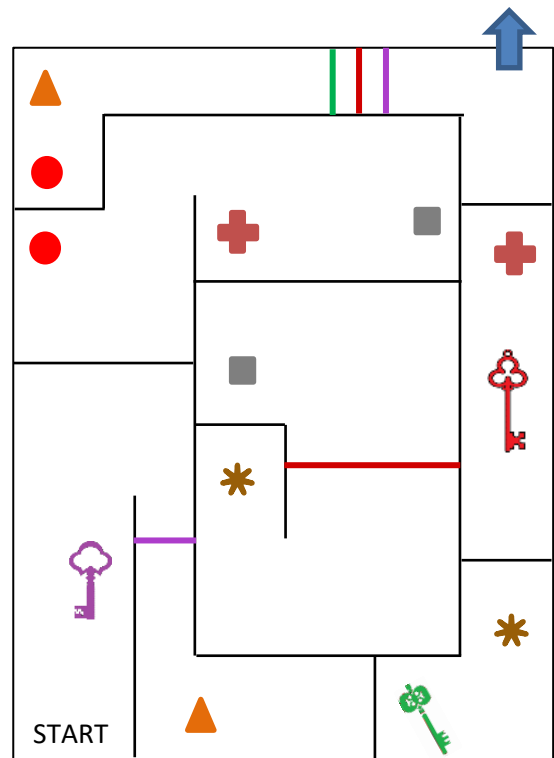
A kör, a háromszög, a kereszt, a négyzet és a csillag az alagutak bejáratait szimbolizálják. Az alagutakban oda-vissza lehet közlekedni. Ha Joe egy bizonyos jelű alagútba lemegy, akkor csak egy ugyanolyan jelű alagútból jöhet fel.

Joe a START mezőben van jelenleg, és fölfelé indulhat el.

Írd le jelekkel azt az útvonalat, amelyet te javasolnál Joe-nak, hogy kiszabaduljon!

Segítünk mi is. Az első jel a lila kulcs. Folytasd!

Íme, egy példa egy útvonalrész leírására! ... \* \* 🔑 ... (Természetesen ez nem a megoldás!)



7

