
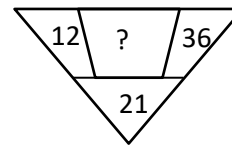
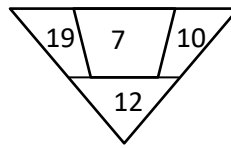
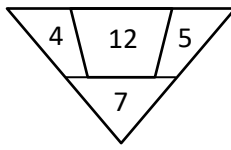






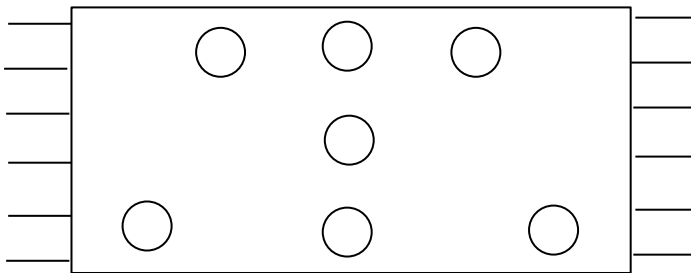


9. Milyen számot írnál a kérdőjel helyére? Számolással indokolj!



7

10. Egy szőnyegen 7 kör található az ábra szerinti elrendezésben. Vágd hét részre 3 egyenes vonallal úgy a szőnyeget, hogy mindegyik részben egy kör legyen!



3

összes pont:

65