





d) Melyik az a kétjegyű szám, mely százasaokra kerekítve 25%-kal növekszik? Indokolj, ellenőrizz!



5


2. a) Írd fel azoknak a természetes számoknak az összegét, amelyre érvényes, hogy

$$\frac{2}{3} \leq \frac{x}{12} < \frac{7}{9}$$




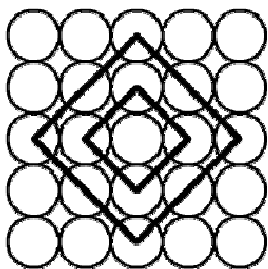
4

3. Számítsd ki a derékszögű egyenlő szárú háromszög területét, ha az alapja  $\sqrt{50}$  cm hosszú! Készíts vázlatos rajzot!



6

4. Az ábrán látható kisebb négyzet területe  $8 \text{ cm}^2$ . Mekkora a nagyobbik négyzet területe? Indokolj!



4



