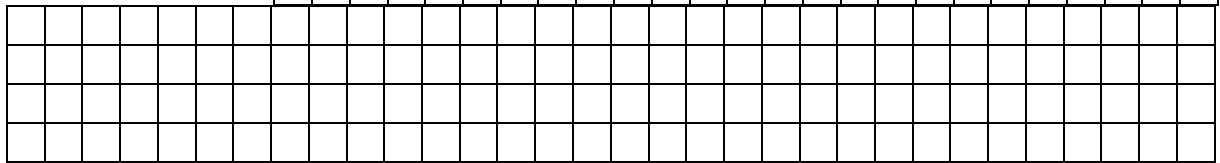

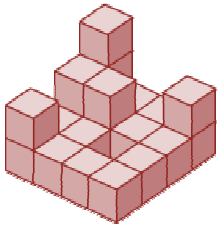


4. Legkevesebb hány kiskockával kell kiegészítenünk az ábrán látható építményt, hogy egy nagy kockát kapjunk? Számítsd ki a nagykocka felszínét és térfogatát, ha a kiskocka éle 12 mm!




6

5. Helyettesítsd az alábbi egyenlőségben a betűket számjegyekkel úgy, hogy az eredmény:
 a) a lehető legnagyobb legyen,
 b) a lehető legkisebb legyen!


$$AB + BA = CC$$

Számolással ellenőrizz!



4

6. Három papagáj 1 hét alatt 2 dl magot eszik meg.
 Hány papagáj eszik meg 12 dl magot 2 hét alatt?
 Számolással indokolj!



5

