


6. December 24-én a parkban a madarak a madáretetőkre szállnak. Ha minden etetőre 1 madár ülne, akkor 1 etető hiányozna. Ha minden etetőre 2 madár ülne, akkor 1 etetővel több lenne.

Hány madáretető és hány madár volt a parkban karácsonykor?

Gondolatmenetedet vezesd le! Rajzolhatsz is!


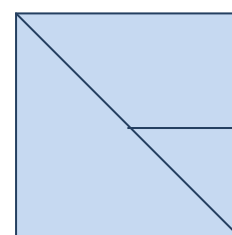
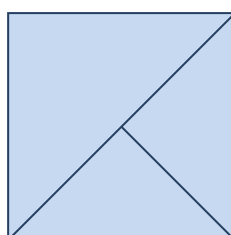



5	
---	--

7. A sor elejére rajzolt alakzat annyit ér, amennyit beleírtunk.

Mennyi az értéke az egyes részeknek?

Írd bele a részekbe az értéküket! Számolj, indokolj!



10	
----	--