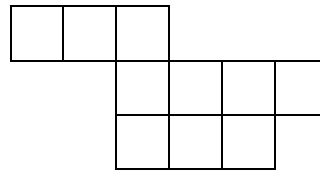
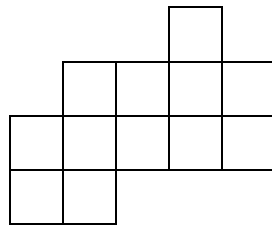
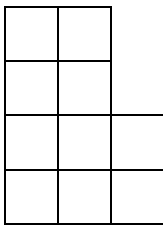



6. Darabold fel az alábbi alakzatok mindegyikét két-két egyforma alakú és méretű (egybevágó) részre!



6	
---	--

7. Négy ajándékozó közül a második kétszer annyi ajándékot adott, mint az első, a harmadik háromszor annyit, mint a második, a negyedik négyszer annyit, mint a harmadik. Négyen együtt 132 ajándékot adtak.

Hány ajándékot adtak külön- külön?



8	
---	--