


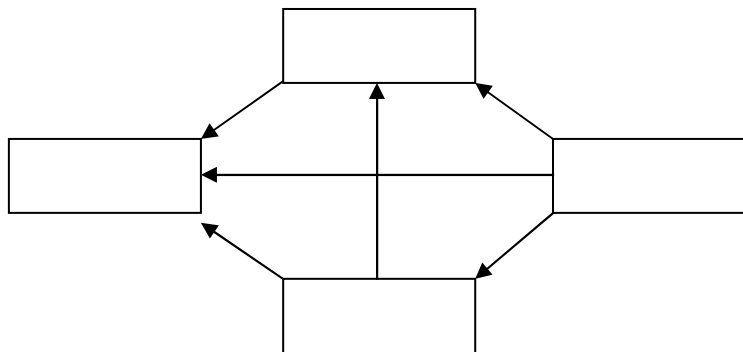







7. Írd a megadott mennyiségeket a keretekbe (  ) úgy, hogy a nyilak mindig a kevesebb felé mutassanak! Számolással bizonyítsd megoldásod!

$$\frac{3}{10} \text{ m}, \quad \frac{1}{2} \text{ m}, \quad \frac{3}{4} \text{ m}, \quad \frac{4}{5} \text{ m}$$



8	<input type="text"/>
---	----------------------

8. Az **AB** szakasz hossza 18 cm. A **B** pont az **AC** szakasz középpontja.  
Az **A** pont a **BD** szakasz középpontja.  
Hány cm hosszú a **CD** szakasz?  
Készíts rajzot!



8	<input type="text"/>
---	----------------------