








- c) Fánk sütéskor egy edényben egyszerre 5 fánkot lehet kisütni. 1 fánk kisütéséhez kb. 5 percre van szükség.  
Mennyi az a legrövidebb idő, ami alatt 18 fánkot ki lehet sütni?



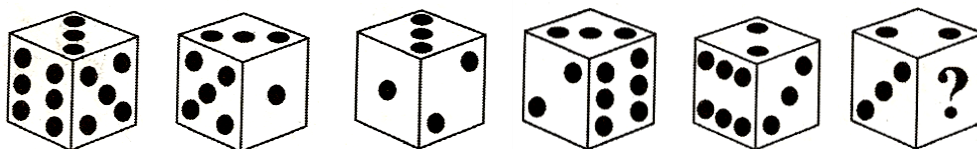
3

- e) Tigris házához egy 6 lépcsősorból álló lépcsősor vezet fel. Tigris egyszerre 1 vagy 2 lépcsőfokot ugrik át.  
Hányféleképpen mehet fel a lépcsőn?



13

2. Ugyanazt a dobókockát látjuk hat különböző helyzetben.  
Hány pont kerül a kérdőjel helyére az utolsó kockán?



? =  Indoklás: \_\_\_\_\_

4

