


4	
---	--

6. Peti az állatkereskedésben a díszhalakat nézegeti. A 3 zebrahal 8 neonhal együtt 4390 Ft-ba kerül. Az 5 zebrahalért és 10 neonhalért 6050 Ft-ot kell fizetni. Peti 7 zebra- és 7 neonhalat választott.

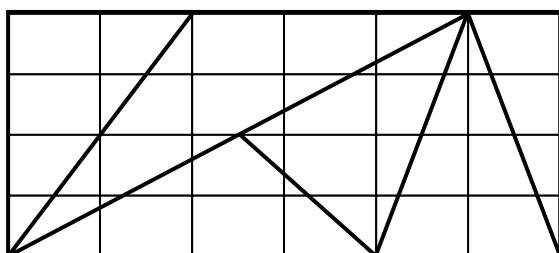


Mennyit fizetett érték? (Az azonos fajtájú halak ugyanannyiba kerülnek.)




9	
---	--

7. Jóskának az alábbi ábra szerint sikerült széttörni egy tábla csokoládét:



El lehet igazságosan osztani ezt a csokoládét további tördelés nélkül két barátunk? Hogyan? Ha lehetséges, találj legalább egy módot!



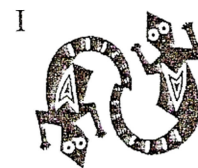

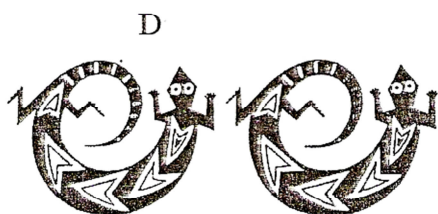

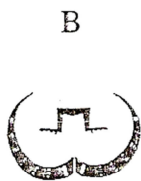



8	
---	--

8. A vastag vonalra tükröt helyeztünk, ezt az ábrát kaptuk.



Melyik ábrát kaphattuk tükrözéssel? Karikázd be a betűjelét!



4	
---	--