


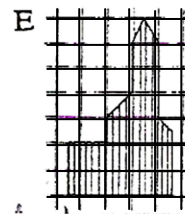
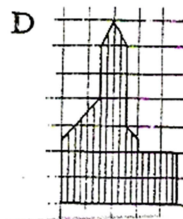
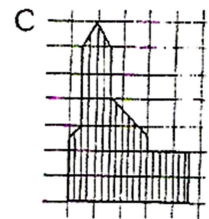
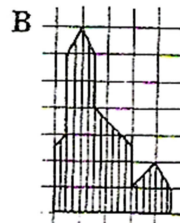
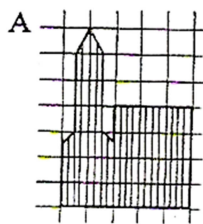

4	
---	--

4. Piros, fehér és zöld golyóink vannak. Háromszor annyi a piros, mint amennyi a fehér, és ugyanannyi zöld van, mint piros. Összesen 56 golyónk van. Mennyi a zöld golyók száma?



7	
---	--

5. Ennek a templomnak a körvonalait lerajzoltuk előlről, jobbról és hátulról. Az öt rajz közül kettő rossz lett. Keresd meg a hibás rajzokat! Karikázd be a betűjelüket!



5	
---	--

