




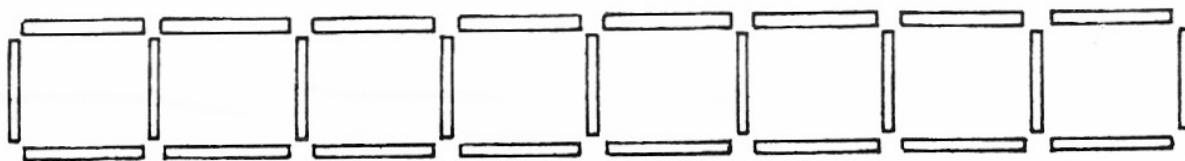


6. Az itt látható óra egyszer csak elkezd össze-vissza járni. A nagymutató előreszalad 3 negyed órával, majd elindul visszafele 1 negyed órányit, aztán kétszer 3 negyed órát lódul előre. Ezek után vajon mennyit mutat az óra? Számolj! Rajzolhatsz is!



5 pont

7. A birkapásztor 25 rácscsal különítette el egymástól a 8 birkáját.




- a) Egy éjszaka elloptak tőle 3 rácscot.



Megváltoztatja az elrendezést, és ismét elkülöníti egymástól a 8 állatot. Hogyan? Rajzold le!

- b) Másnap éjjel további 6 rácscot loptak el tőle, így már csak 16 maradt. Ezúttal is tudja, mit tegyen. Hogyan rendezi el a rácscokat? Rajzolj!



8 pont

## MEGOLDÓ KULCS

### 3. OSZTÁLY